



وزارة التربية

إدارة الشؤون التعليمية
مؤقتة الامتحانات وشؤون الطلبة



نموذج الإجابة

المرحلة المتوسطة

(كامل المنهج)

إختبارات الدور الثاني

المادة : الاجتماعيات

الصف : السابع

العام الدراسي

2018 / 2017

السؤال الأول : (موضوعي) يتكون من (أ- ب - ج- د- هـ) :

أ) اختر الإجابة الصحيحة من بين البدائل التي تلي كل عبارة بوضع خط تحتها : (لكل نقطة درجة)

- 1- العام الذي تأسس به الصندوق الكويتي للتنمية الاقتصادية العربية في عام :ص 179
1960 م - 1961م - 1962 م - 1963 م
- 2- عدد الحروف الابجدية في بلاد اليمن تتألف من حرف ص 87
27 - 28 - 29 - 30
- 3- الدولة العربية التي توجد بها محطة الشويخ لتحلية مياه البحر هي :ص 61
الكويت - لبنان - المغرب - قطر
- 4- عقدت القمة العربية الاقتصادية والتنمية والاجتماعية في دولة الكويت عام :ص 186
2006م - 2007م - 2008م - 2009م
- 5- مسطح مائي تحيط به اليابسة من جميع الاتجاهات :ص 60
نهر - بحيرة - محيط - خليج
- 6- صاحب المبادرة لاستضافة مؤتمر الدولي الاول المانحين سوريا عام 2013 م الشيخ : ص 188
عبدالله السالم - صباح الأحمد - صباح السالم - أحمد الجابر

ب) اكمل العبارات التالية بما يناسبها مما درست : (لكل نقطة درجة)

- 1- قوى محركة للألات وعنصر مهم للتقدم والتطور الاقتصادي في جميع المجالات يطلق عليهاالطاقة.....ص 125
- 2- انضمت جمهورية جزر القمر للجامعة العربية عام1993.....ص 23
- 3- زحف الرمال الصحراء على المناطق الجافة وشبه الجافة مشكلة تسمىالتصحّر..... ص 162
- 4- الكتابة التي عرفتها الحضارة المصرية تسمىالهيروغليفية..... ص 77
- 5- العام الذي اعلن به قيام مجلس التعاون الخليجي1981..... ص 181
- 6- عقد مؤتمر (قمة الأرض) عام 1992م في دولةالبرازيل.....ص 167
- 7- موقع الدولة بالنسبة لليابسة والماءالموقع النسبي.....ص 33

ج) صنف المحاصيل الزراعية التالية بما يناسبها في الجدول الآتي: (لكل نقطة نصف درجة)

البن - الأرز - التمور - الشعير ص 113

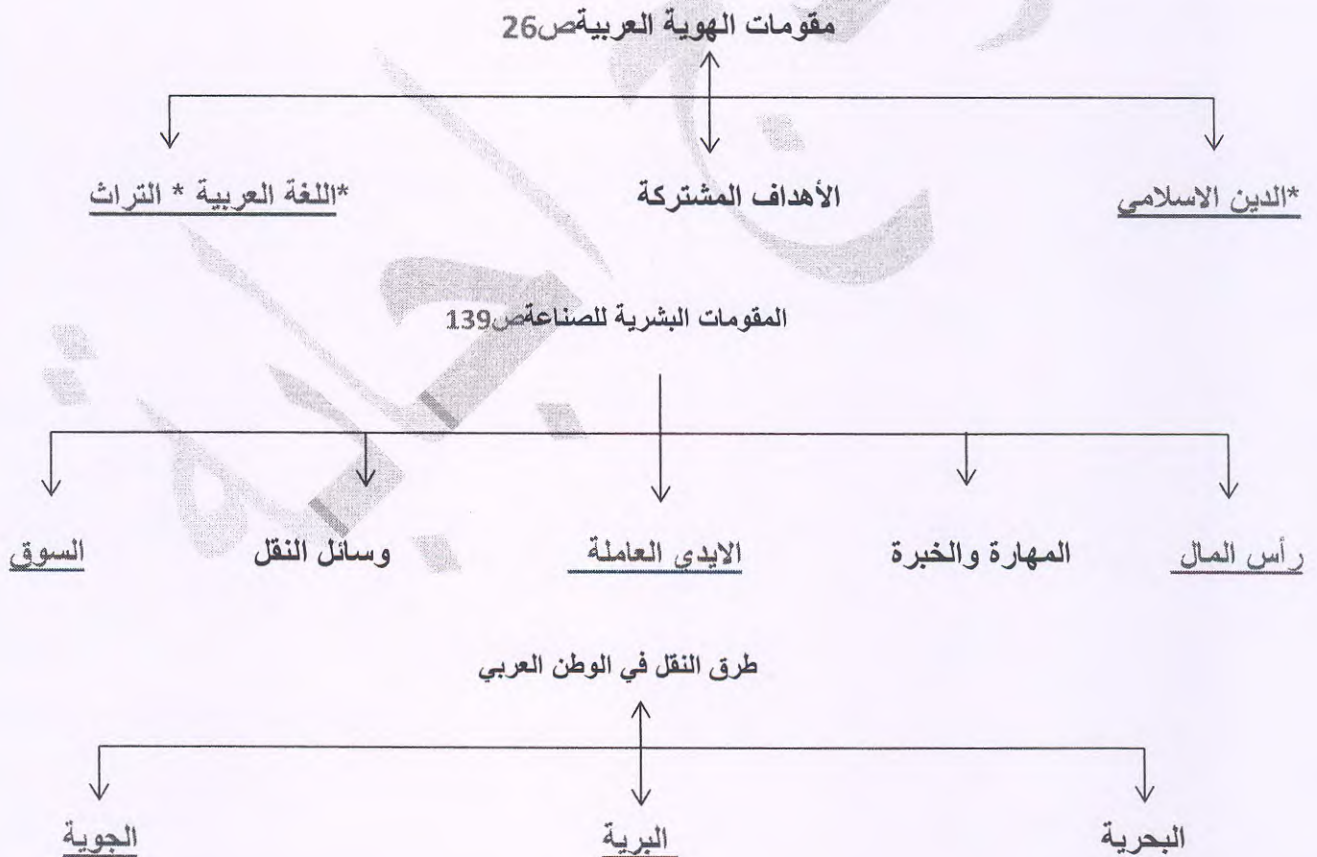
حبوب غذائية	فواكه و ثمار	غلات صناعية وتجارية
<u>الأرز / الشعير</u>	<u>التمور</u>	<u>البن</u>

- صنف التضاريس التالية في الجدول الذي يليها: (لكل نقطة نصف درجة)

شطوط - عسير - نجد - المره

الهضابص40	الجبالص38
<u>شطوط - نجد</u>	<u>عسير - المره</u>

د) أكمل المخططات السهمية التالية: (لكل نقطة درجة)



هـ) لاحظ خريطة الوطن العربي الصماء ثم نفذ ما هو مطلوب منك : (لكل نقطة درجة)

1- ضع الرمز // // // // على المحيط الاطلسي ص 149

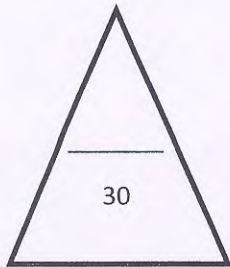
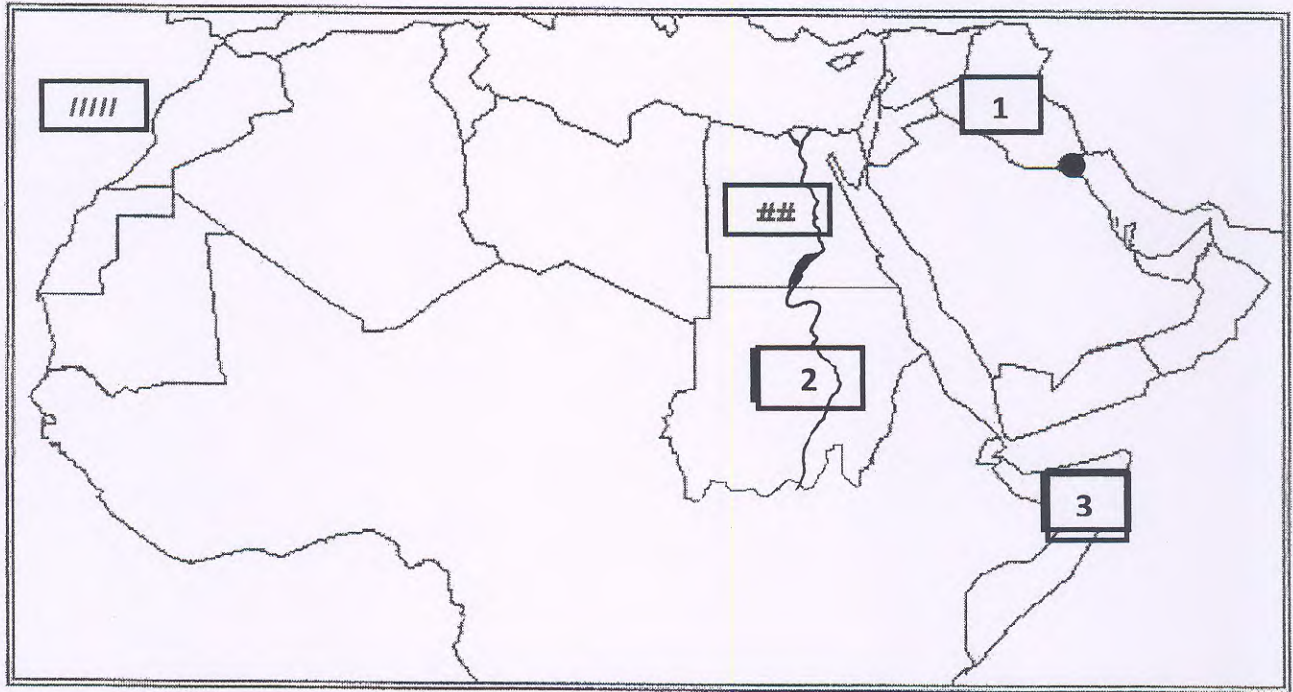
2- الصومال يمثلها الرقم 3--- ص 23

3- ضع الرمز # على الحضارة المصرية ص 71

4- حضارة بلاد الرافدين يمثلها الرقم 1--- ص 71

5- ظلل دولة الكويت ص 182

6- ارسم نهر النيل على الخريطة . ص 149



السؤال الثاني يتكون من (أ - ب - ج) .

أ) عرف ما يلي : (لكل نقطة درجة)

التجارة البينية :-التبادل التجاري بين الدول العربيةص 152

الهضبة: أرض مرتفعة سطحها مستوي وتمتد على مساحة كبيرةص 40

التنمية :-التطور والتطوير وهي عملية تتطلب التخطيط والمشاركة من الجميعص 172

الحضارة :-كل ما يطرأ على المجتمع من تقدم وتطور ورفق في جميع نواحي الحياة الدينية والسياسية والاقتصادية والاجتماعية والفكريةص 71

ب) فرق بين كل من : (لكل نقطة درجة)

الهجرة الخارجيةص106	الهجرة الداخليةص106
<u>هجرة من دولة الى دولة اخرى</u>	<u>الهجرة من القرى الى المدن</u>
قناة ص28	مضيق ص 28
<u>مجري مائي صناعي ضيق يشق لأغراض الري أو النقل</u>	<u>ممر مائي ضيق يصل بين بحرين أو محيطين أو أي مساحتين كبيرتين نسيباً من الماء</u>

ج) لاحظ الجدول التالي من ثم اجب عما يلي (لكل نقطة درجة)

الدولة	الانتاج السمكي (ألف طن)
اليمن	157
مصر	1374
المغرب	1246

1- ما هي أكبر دولة في إنتاج الأسماك ؟ .

* مصر

2- أكتب سبب تنوع الثروة المائية في الوطن العربي .ص122

* دول الوطن العربي بحرية ولها سواحل

ومسطحات مائية واسعة مالحة وعذبة

السؤال الثالث يتكون من (أ - ب - ج)

(أ) اقرأ الفقرة التالية ثم أجب عما هو مطلوب منك : (لكل نقطة درجة)

التلوث البيئي ظاهرة بيئية من الظواهر التي يعاني منها كوكب الارض مهددًا حياة الكائنات الحية بأنواعها مختلفة حيث تتعرض المكونات الاساسية للبيئة الهواء والماء والتربة للضرر نتيجة لسلوكيات الانسان في استغلال مكونات البيئة .

1- اكتب عنوانا مناسباً للفقرة السابقة .

حرية للمتعلم للتعبير له علاقة بالموضوع

2- عرف ما تحته خط :

الضرر الذي يلحق بالتربة والماء والهواء ويصيب التلوث عناصر البيئة من عدة مصادر للملوثات ويصيب التلوث عناصر البيئة ص 166

3- ما أشكال التلوث البيئي. ص 167

*تلوث التربة * تلوث الماء * تلوث المياه

ب) علل لما يلي : (لكل نقطة درجة)

1- اهتمام القدماء المصريين بتحنيط موتاهم ص 76

* اعتقاد المصريون ان الحياة تعود الى الجسم بعد الموت البعث والخلود

2- ازدهار زراعة الفواكه في حوض البحر المتوسط. ص 113

*تتطلب ظروف مناخية خاصة

ج) برهن على صحة العبارة : (لكل نقطة درجة)

1- ازدهار الزراعة في حضارة بلاد الرافدين ص 81

خصوبة التربة * سعة السهول * وفرة المياه * اقامة السدود * تجفيف المستنقعات

2- أهمية موقع الوطن العربي بالنسبة للعالم. ص 35

يقع وسط العالم * بطل على مسطحات مائية * له اهمية ملاحية للتجارة العالمية

السؤال الرابع يتكون من (أ- ب - ج)

أ) اكتب نقطتين فيما يلي : (لكل نقطة درجة)

1- عوامل التي تؤثر في نمو النبات الطبيعي ص.51

نوع التربة * المناخ

2- العوامل المؤثرة في مناخ ص.46

الموقع بالنسبة لدوائر العرض * القرب أو البعد عن المسطحات المائية * التضاريس * الرياح

ب) قارن بين كل من : (لكل نقطة درجة)

أوبك ص 135	أوبكص 134	وجه المقارنة
1968م	1960م	سنة التأسيس
الكويت	فيينا	المقر

ج) لاحظ الشعار التالي من ثم أجب عما يلي : (لكل نقطة درجة)



1- متي تأسست جامعة الدول العربية ص.178

• 1945م

2- عدد الدول الأعضاء في جامعة الدول العربية ص.178

• 22 دولة عربية

انتهت الاسئلة